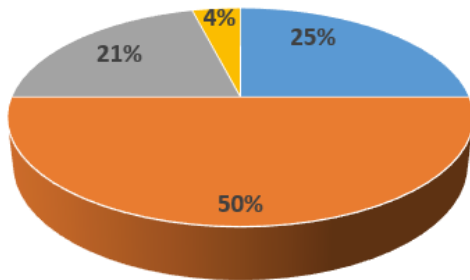


Задание 4 (3 балла)

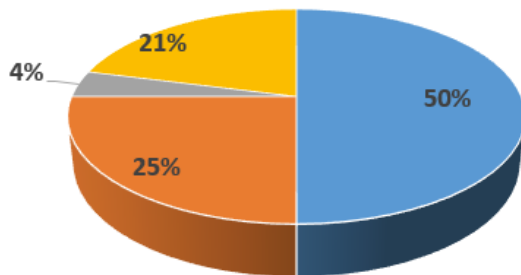
Какая из диаграмм построена по данным, приведенным в таблице?

1			
2	Тихий	50%	Blue
3	Атлантический	25%	Orange
4	Индийский	21%	Grey
5	Северный Ледовитый	4%	Yellow

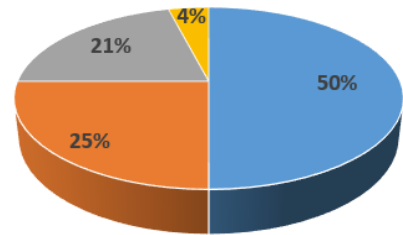
А)



В)



Б)



Г) Среди ответов нет верного